



GRADE-V

SAMPLE PAPER

ASSESSMENT

**ASSESSMENT UNIT
SINDH EDUCATION FOUNDATION**

سنڌي

هدايت: استاد / نگراني ڪندڙ کي گذارش ٿي ڪجي ته ڏنل سڀني سوالن کي چڱي طرح پڙهي ٻڌائي ۽ ٻارن جي رهنمائي ڪري ته جيئن ٻار سوالن کي سمجهي سگهن.

مارڪون 03

ٿاسڪ 1

هيٺ ڏنل واقعو غور سان پڙهو ۽ صحيح جواب تي ٽڪ (✓) جو نشان لڳايو.

ننڍپڻ ۾ وٽائي کي پنهنجي ماءُ درزي وٽ ڪم سڪڻ ڪاڻ ويهاريو. هڪڙي ڏينهن درزي رومال ۾ ڪا شيءَ ويڙهيل جاري تي رکي. وٽائي کي چيائين ته مونکي ڪو ڪم ڪار آهي دير سان ايندس. هن جاري تي، رومال ۾ ويڙهيل زهر رکيل آهي متان تون ڪٽي ۽ ڪنهن ٻئي کي به هٿ لائڻ نه ڏجان.

درزي هليو ويو، وٽائي اتي رومال کولي جو ڏٺو ته ان ۾ ماڪي جو پيالو رکيل هو. هن کي خيال ٿيو ته درزي هيڏو سارو ڪوڙ ڇو ڳالهايو، ڪٽي چئي ها ته ابا، هن ۾ ماڪي ويڙهيل آهي ڪنهن کي به نه ڏج ته چاڻي پوي ها. هاڻي استاد کي ڪو سبق سيکارڻي ته جيئن ڪوڙ ڳالهائڻ جي عادت ڇڏي. وٽائي رومال ڪٽي وڃي بازار ۾ وڪڻيو ۽ ان مان مليل پئسن مان ماني وٺي آيو ۽ اچي ماڪي جو پيالو کائي ويهي رهيو. درزي آيو ۽ اچڻ سان ئي اچي پيالي تي نگاهه وڌائين، پيالو خالي پيو هو. وٽائي کان پڇيائين ته ”رومال ڪاڏي ويو؟“ وٽائي چيو ته ”رومال چور لاهي ڪٽي ويو گهڻو ئي پويان پيو مانس پر هٿ نه آيو. ان کان پوءِ توهان جي ڊپ کان موٽي اچي زهر جو پيالو پي ڇڏير پراڻسوس جو توهان اچي ويا پر موت ڪونه آيو.“

درزي سڄي قصي کي سمجهي ويو ۽ آئنده جي لاءِ ڪوڙ ڳالهائڻ ڇڏي ڏنائين.

1. ننڍپڻ ۾ وٽائي کي پنهنجي ماءُ ڪنهن وٽ ڪم سڪڻ ڪاڻ ويهاريو؟

الف. درزي ب. واڍو ج. لوهار د. ڪنڀار

2. درزي رومال ۾ ويڙهيل جيڪو پيالو رکيو ان ۾ ڇا پيل هو؟

الف. چٽي ب. دال ج. ماڪي د. ساڳ

3. درزي کي ڇا ڳالهائڻ جي عادت هئي؟

الف. لٻاڙ ب. ڪوڙ ج. گلا د. سڄ

مارڪون 02

ٽاسڪ 2

هيٺ ڏنل جملن مان ناڪاري جملن تي ٽڪ (✓) جو نشان لڳايو.

الف. ٽمينه ڪپڙا ڪونه ٿي سڀي.

ب. علي ڪم ڪري ٿو.


ج. مان ڪونه ٿو اچان.

د. هو اسڪول وڃي ٿو.

مارڪون 03

ٽاسڪ 3

هيٺ ڏنل گل ۾ ضمير متڪلم وارن لفظن کي پينسل سان رنگ ڪريو.



مارڪون 03

ٽاسڪ 4

هيٺ ڏنل لفظن جي معنيٰ لکو.

لفظ	معنيٰ
مهارت	
تندرست	
ڪاريگر	

مارڪون 03

ٽاسڪ 5

هيٺ ڏنل زمان ماضي وارن جملن کي زمان مستقبل ۾ تبديل ڪريو.

(i) مان لاڙڪاڻي ويو هئس.

(ii) تحرير ڪتاب ورتو هيو.

(iii) نعمان چانهه پيتي هئي.

English

Instruction: Teacher/Invigilator is requested to readout all questions to the students clearly.

Task 7

2 Marks

Fill in the blanks with the following verbs.

went finished watched did

- a. Aslam _____ his homework last night.
b. Amina _____ to Sukkur in the month of April.

Task 8

1 Mark

Match the word with their opposite.

Empty	Clean
	New
	Full

Task 9

2 Marks

Fill in the blanks with the appropriate conjunction.

before between because

- a. Greet your teacher _____ leaving the school.
b. Amjad went home _____ he was ill.

Task 10

5 Marks

Look at the following picture.



i) Write **any three** sentences to describe what is happening in the library.

Ans. _____

ii) Write the names of **any two** objects you can see in the picture.

Ans. _____

Task 11

3 Marks

Maria wrote a letter to her friend about her summer vacations but there are some mistakes in it. Find all the mistakes and underline them.

Dear nida,

I reached at our uncle's place last week. I went to karachi to spend my summer vacations.

Karachi is a big city. There is a lot of traffic every time on roads. At first, I visited the sea view with my cousins. Then we saw the Tomb of Quaid-e-Azam, Zoo, Safari Park and the National Museum. At last, I did some shopping for my family and friends. I had a great time in Karachi. do write soon about your summer vacations.

Give my salam to uncle and aunty.

Your friend,
Maria

Task 12

3 Marks

With the help of a line (—), match the instructions with their correct pictures.

Do not cut trees.



Do not waste the water.



Clean the room.



Wash your hands.

Mathematics

Instruction: Teacher/Invigilator is requested to readout all questions to the students clearly.

هدايت: استاد / نگراني ڪندڙ کي گذارش ٿي ڪجي ته ڏنل سڀني سوالن کي چڱي طرح پڙهي
 ٻڌائي ۽ ٻارن جي رهنمائي ڪري ته جيئن ٻار سوالن کي سمجهي سگهن.
 هدايت: استاد / نگران تمام سوالات کي اچي طرح سے پڙھیں اور بچوں کي رهنمائي ڪريں۔

Task 13

2 Marks

Tick (✓) the correct answers.

صحيح جوابن تي ٽڪ (✓) جو نشان لڳايو.
 صحيح جوابات پر درست (✓) کا نشان لڳائين۔

i) Find the LCM of 28 and 30 by division method.

28 ۽ 30 جي وندوسيلي ننڍي عام ڀيڄ آيت (ن.ع.پ.ا) لھو.
 28 اور 30 کا ذواضعاف اقل تقسيم کے ذریعے سے معلوم ڪريں۔

- A. 220
- B. 320
- C. 420
- D. 520

ii) Find the product of 22.18×9 .


22.18×9 جو حاصل معلوم ڪريو.
 22.18×9 کا حاصل معلوم ڪريں۔

- A. 281.89
- B. 182.98
- C. 289.81
- D. 199.62

Task 14**2 Marks**

Find the area of given shapes in square centimetres.

هيٺ ڏنل شڪلين جي ايراضي چورسي اڪائي خانن ۾ معلوم ڪريو.
دي گئي اشڪال ڪار قبو مربع سينٽي ميٽر ۾ معلوم ڪريو۔



Ans . _____ square cm



Ans . _____ square cm

Task 15**1 Mark**

Change into the decimal fraction.

ڏهائي اٺپور ۾ بدلايو.
اعشاري ڪسوڙ ۾ تبديل ڪريو۔

$$11 \frac{116}{1000}$$

Task 16

1 Mark

The cost of 60 kg apples is Rs.3000. Find the cost of 2 kg apples.

60 ڪلو صوفن جي قيمت 3000 روپيا آهي. 2 ڪلو صوفن جي قيمت لھو.

60 ڪلو سبب کي قيمت 3000 روپے ھے۔ 2 ڪلو سبب کي قيمت معلوم ڪريں۔

Task 17

2 Marks

There are 300 sales persons work in a shopping mall including 40% women. Find the number of women working in the shopping mall. Show steps.

ھڪ شاپنگ مال ۾ 300 دڪاندار ڪم ڪن ٿا، جن ۾ 40% عورتون آھن۔ ٻڌايو ته اتي ڪيتريون عورتون ڪم ڪن ٿيون؟ مرحليوار لکو.

ايڪ شاپنگ مال ۾ 300 دڪاندار ڪم ڪرتے ھیں جس ۾ 40% عورتیں ھیں۔ بتايے وھاں کتنی خواتين ڪام ڪرتي ھیں؟
مراحل دکھائیں۔

Ans. _____

Task 18

6 Marks

Tick (✓) the correct answers.

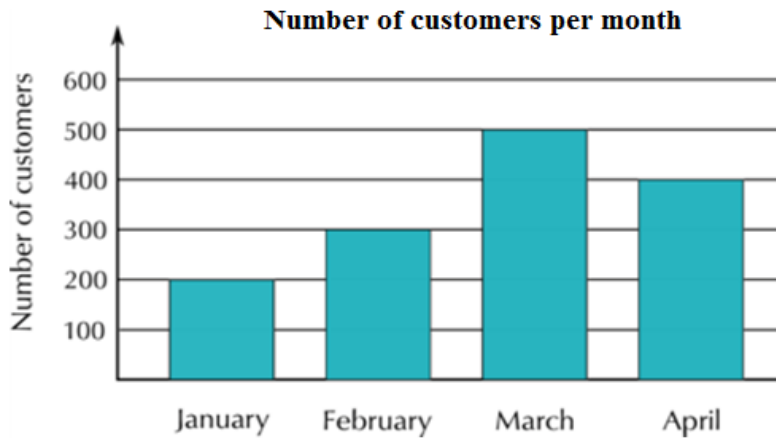
صحيح جوابن تي تڪ (✓) جون نشان لڳايو.

صحيح جوابات پر درست (✓) کان نشان لڳائين۔

The given bar graph is showing the number of customers of a general store. According to the given bar graph, mostly customers visited in the month of _____.

هيٺ ڏنل بار گراف هڪ جنرل اسٽور تي ايندڙ گراهڪن جي باري ۾ ٻڌائي رهيو آهي. ٻڌايو ته ڪهڙي مهيني ۾ اسٽور تي سڀ کان وڌيڪ گراهڪ آيا؟

1 ڊياگرام بار گراف ايڪ جنرل اسٽور پر آنے والے گاہڪوں کي نشاندهي ڪر رهائے۔ بتائيے ڪس مهيني ۾ اسٽور پر سڀ سے زياده خريدار آئے؟



A. January

جنوري

جنوری

B. February

فيبروري

فروری

C. March

مارچ

مارچ

D. April

اپريل

اپريل

Science

Instruction: Teacher/Invigilator is requested to readout all questions to the students clearly.

هدايت: استاد / نگراني ڪندڙ کي گذارش ٿي ڪجي ته ڏنل سڀني سوالن کي چڱي طرح پڙهي
بتائڻي ۽ ٻارن جي رهنمائي ڪري ته جيئن ٻار سوالن کي سمجهي سگهن.
هدايت: استاد / نگران تمام سوالات کي اچي طرح سے پڙھين اور بچوں کي رهنمائي ڪريں۔

Task 19

2 Marks

Tick (✓) the correct answers.

صحيح جوابن تي ٽڪ (✓) جو نشان لڳايو.
صحیح جوابات پر درست (✓) کا نشان لگائیں۔

- i) A pencil fell down from the desk. What moves the pencil towards the floor?
هڪ پينسل ميز تان ڪري پوي ٿي. پينسل کي زمين جي طرف حرڪت ڏيڻ واري طاقت ڪهڙي آهي؟
ايڪ پينسل ميز سے گر جاتی ہے۔ پينسل کوزمين کی طرف حرڪت دینے والی طاقت کون سی ہے؟

A	B	C	D
Mass	Friction	Gravity	Speed
مايو	گان	ڪشش ثقل	رفتار
ڪيٽ	رگرڙ	ڪشش ثقل	رفتار

- ii) Light always travels in the form of

روشنی هميشه جنهن شکل ۾ سفر ڪندي آهي اها آهي
روشنی هميشه جس شکل میں سفر کرتی ہے وہ ہے

A	B	C	D
waves.	circular path.	dotted lines.	straight lines.
لهرون / چوليون.	گول دائرا.	ٽپڪي واريون ليڪون.	سڌي ليڪ.
لهريں۔	دائرو۔	نقطه دار لکيريں۔	سڌي لکير۔

Task 20

1 Mark

Write the correct answer using the appropriate terminology (translucent/ transparent/ opaque).

موزون اصطلاحات جو استعمال ڪندي صحيح جواب لکو. (غير شفاف / شفاف / شفاف / نيم شفاف)
موزون اصطلاحات ڪا استعمال ڪرڻ هونءَ صحيح جوابات لکيڻ. (غير شفاف / شفاف / نيم شفاف)

Why light can pass through glass window but not through wooden window?

روشنی شيشي جي ڌري مان گذري / لنگهي ويندي آهي پر ڪاڻ جي ڌري مان نه ٿي گذري / لنگهي سگهي.
چو؟
روشنی شيشي کي ڪهڙي ڪي گذر جاتي هه ليڪن لکڙي کي ڪهڙي ڪي نهين گذر سکتي ڪيون؟

Ans. _____

Task 21

1 Mark

Write **Any One** difference between a star and a planet.

تاري ۽ سياري جو ڪوبه هڪ فرق لکو.
ستارے اور سیارے ڪا ڪوئي ايڪ فرق لکيڻ.

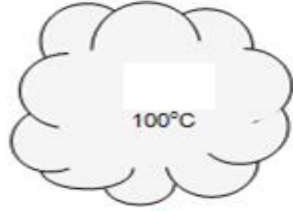
Ans. _____

Task 22


2 Marks

Look at the following process and write the correct forms of matter (liquid/ solid/ gas) in front of the given materials.

هيٺ ڏنل عمل کي ڏسو ۽ مادي جي صحيح حالت (پاڻياڻ/ نهرو/ گيس) لکيو.
 ڊيے گئے عمل کو دیکھیں اور مادے کی صحیح حالت (مائع/ ٹھوس/ گیس) لکھیں۔



HEAT



HEAT

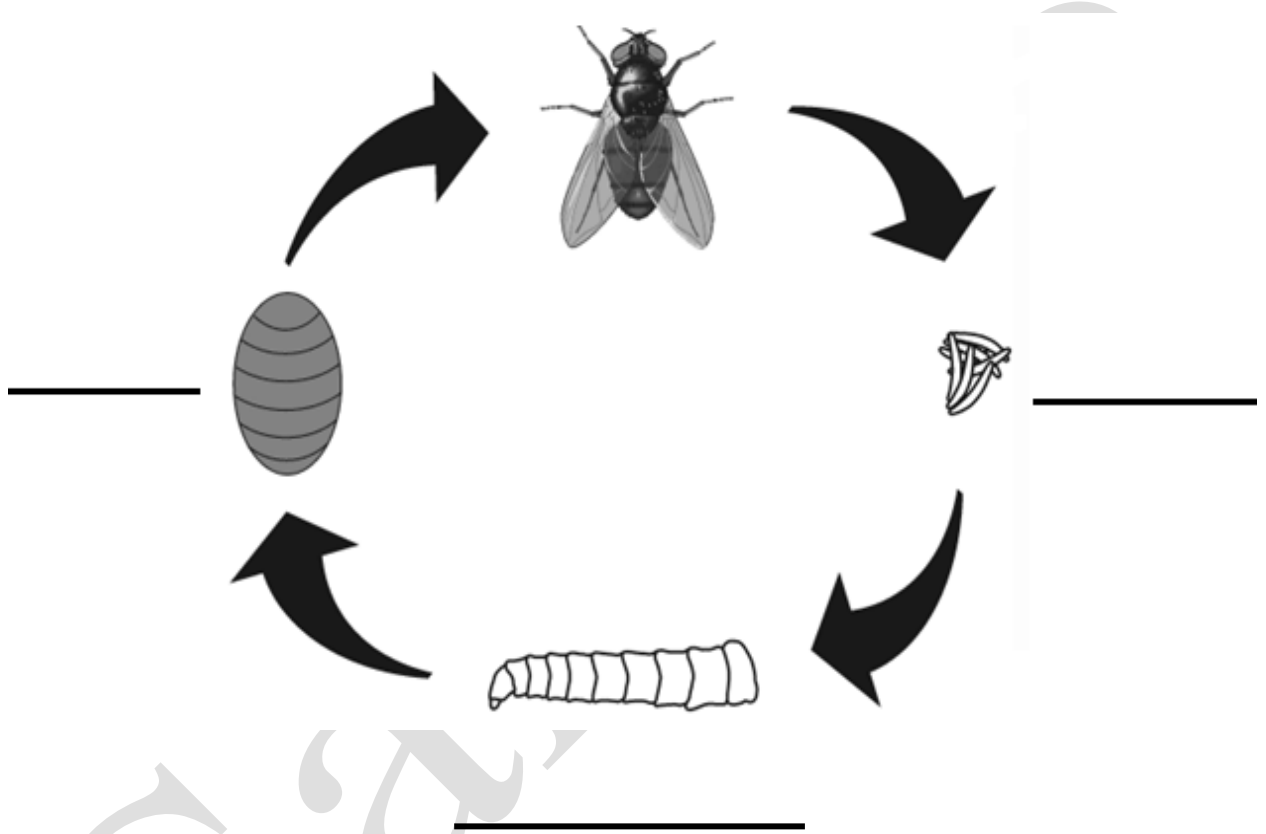


Task 23

2 Marks

Look at the given life cycle of the insect and write names of ANY TWO phases/stages.

هيٺ ڏنل جيت جي حياتي جي چڪر کي ڏسو ۽ ڪن به ٻن مرحلن جا نالا لکو.
ذيل ۾ ڏنل گڏيل ڪيڙي جي حياتي چڪر کي تصوير ڪوڊيڪھيس اور ڪوئي ڊومراحل ڪي نام لکھيس۔



End of Paper

SINDH
EDUCATION
FOUNDATION
GOVERNMENT OF SINDH